

**宮っ子学力
ステップアップシート**

けいさん ねん だい かい
計算 2年 第3回

2年

くみ ばん
組 番

しめい
氏名

☆ つぎの ^{けいさん}計算を ^{おん}しまししょう。

(1) $30 + 90$

120

(2) $260 - 50$

210

☆ つぎの ^{けいさん}計算を ^{ひっさん}筆算で ^{おん}しまししょう。

(3)

	7	4
+	3	8
<hr/>		
1	1	2

(4)

	3	5	6
+			9
<hr/>			
	3	6	5

(5)

$125 + 45$			
	1	2	5
+		4	5
<hr/>			
	1	7	0

(6)

	1	1	7
−		4	3
<hr/>			
		7	4

(7)

	1	2	9
−		7	0
<hr/>			
		5	9

(8)

$104 - 19$			
	1	0	4
−		1	9
<hr/>			
		8	5

☆ つぎの カードの ^{かず}数の 大小を ^{おん}くらべて、□に ^{あてはまる} > か < の ^{しるし}しるしを ^か書きましよう。

(9)

10 + 40

<

60

☆ ^{しき}式と ^{こた}答えを ^か書きましよう。

(10) あきさんは ^{ぜんぶ}全部で 120ページある ^よ本を ^よ読んでいます。今、55ページ ^よ読み終わって ^おいます。残り ^{のこ}は ^{なん}何ページ ^{ある}あのでしょうか。

式

$$120 - 55 (=65)$$

答え

65

ページ

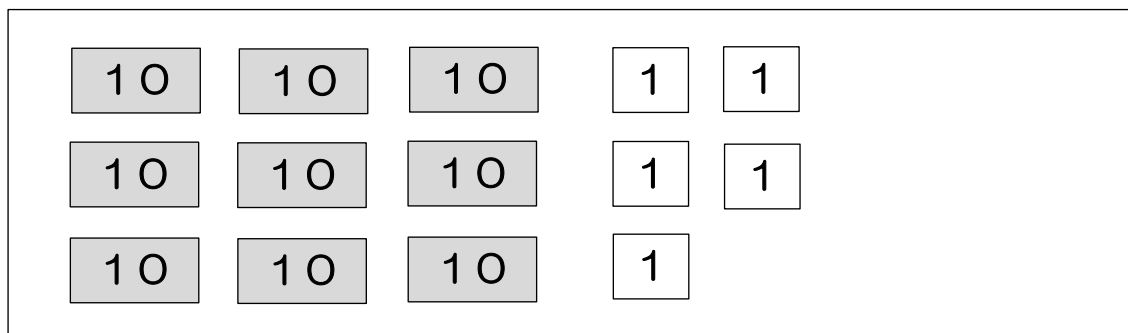
	1	2	0
−		5	5
<hr/>			
		6	5

チャレンジコーナー (おもてが おわったら、 ちょうせん してみよう)

大きな数

つぎの ^す図が あらわす数は いくつでしょうか。 ^{すうじ}数字で ^か書きましょう。

れい)

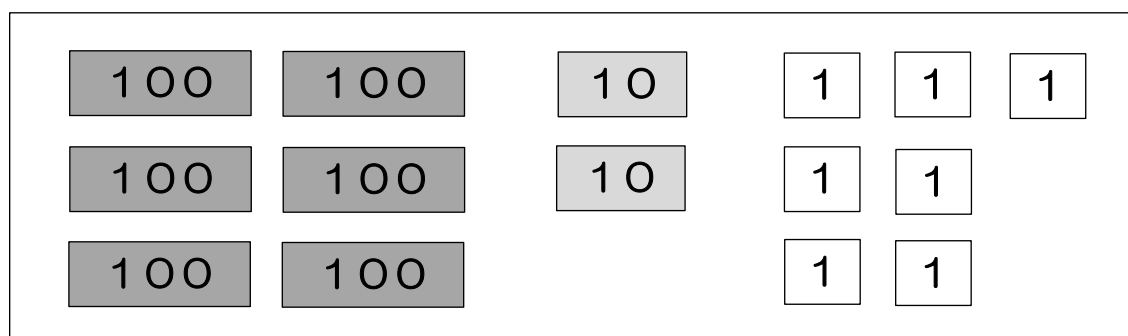


こた
答え

95

< もんだい >

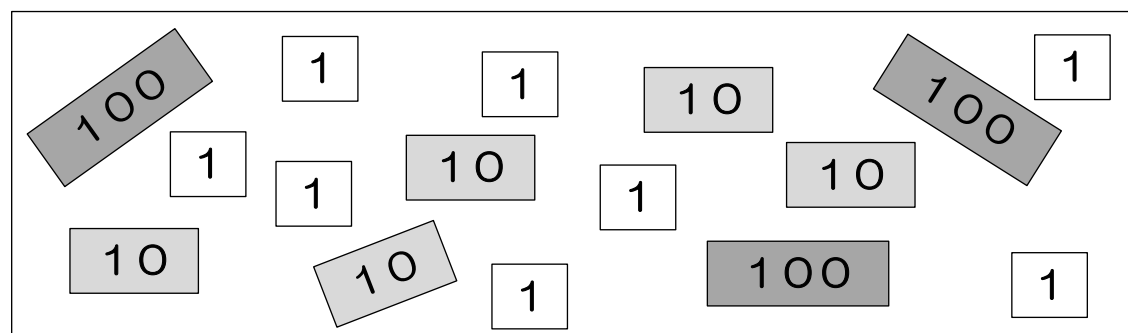
①



答え

627

②



答え

358



100, 10, 1は
なんこずつ あるかな?